	초등학교 1학년 2학기 3. 모양과 시각	초등학교	
	□, ○, △을 찾아볼까요	1학년	반
		이름	

1. 다음 중 □ 모양인 것에 O표시 해 보세요.



()



()



()

2. 다음 중 ○ 모양인 것에 O표시 해 보세요.



()



()



()

3. 다음 중 △ 모양인 것에 O표시 해 보세요.



()



()



()

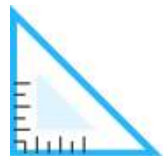
4. 다음 중 □ 모양인 것에 O표시 해 보세요.



()

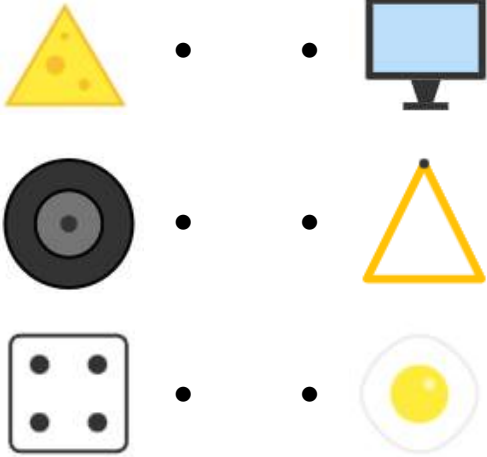


()

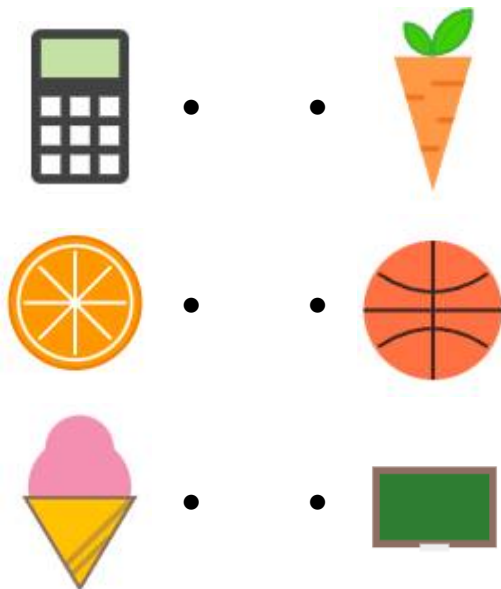


()

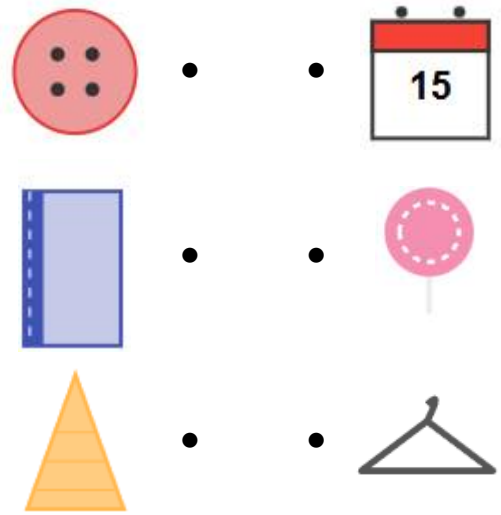
5. 다음 중 찾을 수 있는 모양이 같은 것끼리 이어 보세요.



6. 다음 중 찾을 수 있는 모양이 같은 것끼리 이어 보세요.



7. 다음 중 찾을 수 있는 모양이 같은 것끼리 이어 보세요.



8. 다음 중 □ 모양인 것의 테두리를 따라 그려보세요.



9. 다음 중 △ 모양인 것의 테두리를 따라 그려보세요.



10. 다음 중 ○ 모양인 것의 테두리를 따라 그려보세요.



빠른 정답)

정답지 PDF 파일을 참고하세요.

* 이 자료는 배달의민족 주아, 나눔폰트를
사용하였습니다.

출판일

2025년 12월 7일

저작권 및 유의사항

- 셈나는교실 홈페이지:
<https://hakjeso.com>
 - 학습지제작소 홈페이지:
<https://calcproject.tistory.com/>
 - 계산학습지의 오류나 건의사항이 있는 경우,
<https://calcproject.tistory.com/tag>
로 문의해주세요.
 - 이 저작물은 셈나는수학에 있으며, 출처를 밝힌 후
비상업적 용도로 자유롭게 사용이 가능합니다.
 - 상업적 용도는 수업이나 과외지도에서 부교재로
활용하는 경우만 허용합니다.
 - 학습지제작소가 새로운 모습으로 찾아뵙니다.
'셈나는교실' 많은 이용 부탁드립니다!
 - 이 저작물을 무단으로 **재배포**, **수정**하거나, 게시물의
비밀번호를 유포하는 행위는 삼가주시길 바랍니다.
- © 셈나는수학, 학습지제작소, 2025, All rights reserved.

Do not Distribute this file.