



초등학교 2학년 1학기 1. 세 자리 수

초등학교

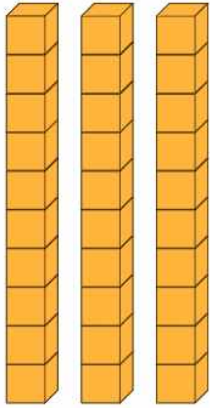
2학년 반

이름

백, 몇백을 알아볼까요

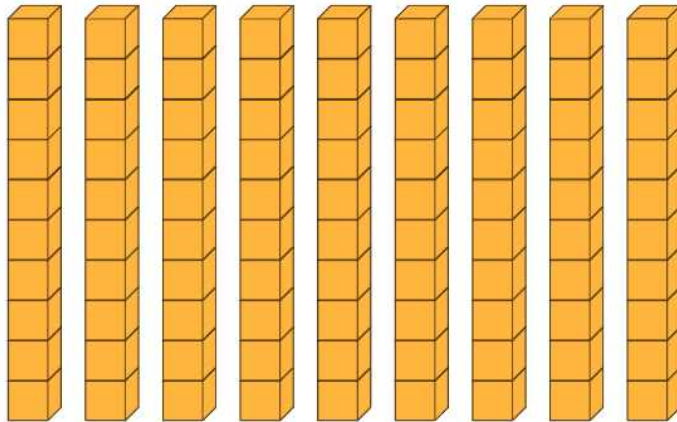
[1-3] 다음 □ 안에 알맞은 수를 써넣으세요.

1.




10이 3개이면 □ 입니다.

2.



10이 □ 개이면 □ 입니다.

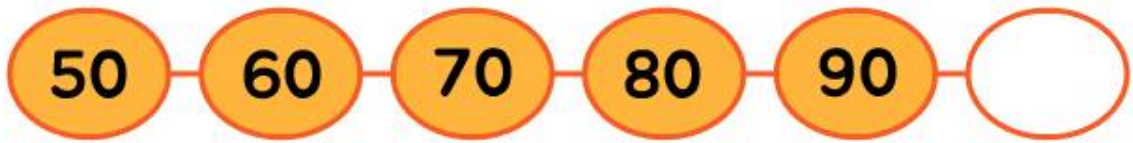
3.



10이 □ 개이면 □ 입니다.

[4-5] 다음 □ 안에 알맞은 수를 써넣으세요.

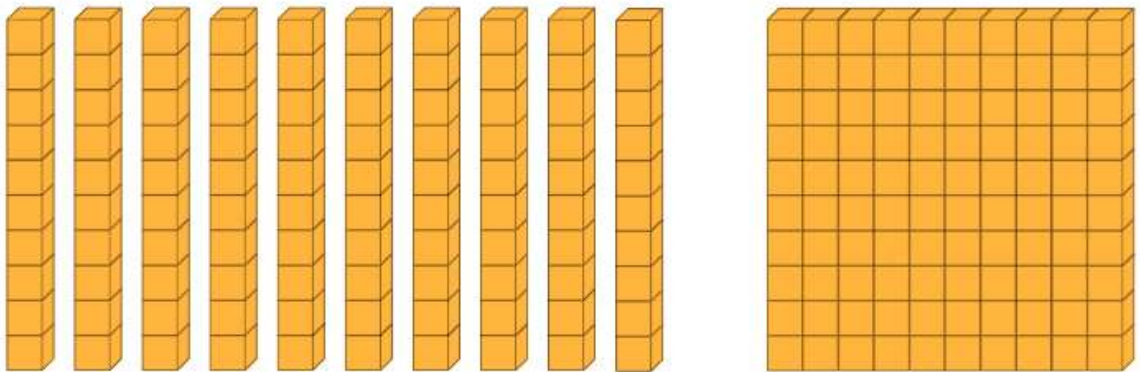
4.



5.

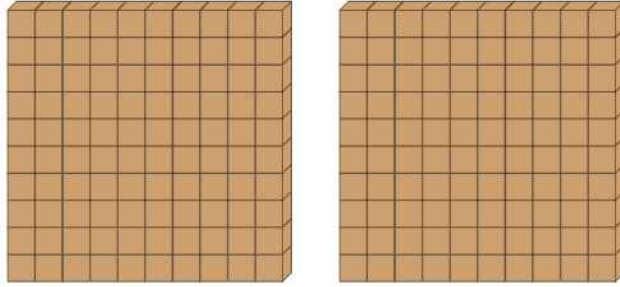


6.



10이 10개인 수를 □ 이라고 쓰고, □ 이라고 읽습니다.

7. 수 모형을 보고 물음에 답해보세요.



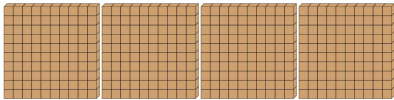
(1) 백 모형이 몇 개 있나요?()개

(2) □에 알맞은 수를 써 보세요.

100이 <input style="width: 40px;" type="text"/> 개이면 <input style="width: 40px;" type="text"/> 입니다.

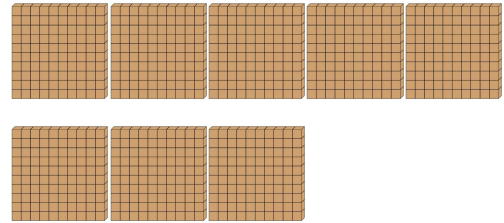
[8-11] 수 모형이나 그림을 보고 알맞은 수를 써 봅시다.

8.



()

9.




()

10.



()

11.



()

[12-19] 빈칸에 알맞은 수를 써 봅시다.

12. 100이 3개이면 _____입니다.

16. 100이 5개이면 _____입니다.

13. 100이 6개이면 _____입니다.

17. 100이 2개이면 _____입니다.

14. 100이 7개이면 _____입니다.

18. 100이 9개이면 _____입니다.

15. 100이 4개이면 _____입니다.

19. 100이 8개이면 _____입니다.

[20-25] 다음 수를 읽어보세요.

20.

500

(오 백)

24.

800

()

21.

400

()

25.

100

()

22.

600

()

26.

300

()

23.

900

()

27.

200

()

빠른 정답)

[1]	30
[2]	9, 90
[3]	10, 100
[4]	100
[5]	100
[6]	100, 백
[7]	(1) 2 (2) 2, 200
[8]	400
[9]	800
[10]	300
[11]	700
[12]	300
[13]	600
[14]	700
[15]	400
[16]	500
[17]	200
[18]	900
[19]	800
[20]	오백
[21]	사백
[22]	육백
[23]	구백
[24]	팔백
[25]	백
[26]	삼백
[27]	이백

* 이 자료는 배달의민족 주아, 서울한강체, 나눔폰트를
사용하였습니다.

수정일

2025년 1월 18일

저작권 및 유의사항

- 샘나는수학 홈페이지:
<https://hakjeso.com>
 - 학습지제작소 홈페이지:
<https://calcproject.tistory.com/>
 - 계산학습지의 오류나 건의사항이 있는 경우,
<https://calcproject.tistory.com/tag>
로 문의해주세요.
 - 이 저작물은 샘나는교실에 있으며, 출처를 밝힌 후
비상업적 용도로 자유롭게 사용이 가능합니다.
 - 상업적 용도는 수업이나 과외지도에서 부교재로
활용하는 경우만 허용합니다.
 - 학습지제작소가 새로운 모습으로 찾아뵙니다.
'샘나는수학' 많은 이용 부탁드립니다!
 - 이 저작물을 무단으로 **재배포**, **수정**하거나, 게시물의
비밀번호를 유출하는 행위는 삼가주시길 바랍니다.
- © 샘나는 수학, 학습지제작소, 2025, All rights reserved.

Do not Distribute this file.