



초등학교 1학년 1학기 3. 덧셈과 뺄셈

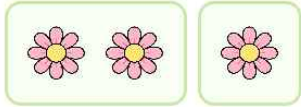
초등학교

1학년 반

덧셈식 쓰기

이름

1. 모두 몇 송이인지 덧셈식을 써 봅시다.



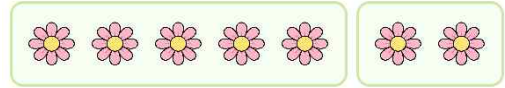
[덧셈식] _____

2. 모두 몇 개인지 덧셈식을 써 봅시다.



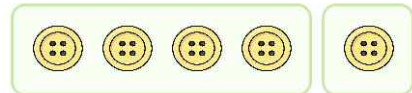
[덧셈식] _____

3. 모두 몇 송이인지 덧셈식을 써 봅시다.



[덧셈식] _____

4. 모두 몇 개인지 덧셈식을 써 봅시다.



[덧셈식] _____

5. 모두 몇 개인지 덧셈식을 써 봅시다.



[덧셈식] _____

6. 모두 몇 마리인지 덧셈식을 써 봅시다.



[덧셈식] _____

7. 모두 몇 개인지 덧셈식을 써 봅시다.



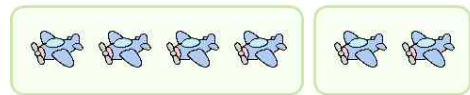
[덧셈식] _____

8. 모두 몇 개인지 덧셈식을 써 봅시다.



[덧셈식] _____

9. 모두 몇 대인지 덧셈식을 써 봅시다.



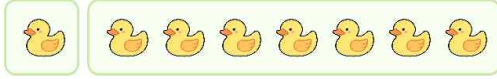
[덧셈식] _____

10. 모두 몇 송이인지 덧셈식을 써 봅시다.




[덧셈식] _____

11. 모두 몇 마리인지 덧셈식을 써 봅시다.



[덧셈식] _____

12. 모두 몇 개인지 덧셈식을 써 봅시다.



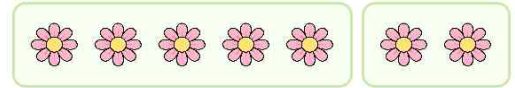
[덧셈식] _____

13. 모두 몇 마리인지 덧셈식을 써 봅시다.



[덧셈식] _____

14. 모두 몇 송이인지 덧셈식을 써 봅시다.



[덧셈식] _____

15. 모두 몇 마리인지 덧셈식을 써 봅시다.



[덧셈식] _____

빠른 정답)

1.	$2+1=3$
2.	$3+3=6$
3.	$5+2=7$
4.	$4+1=5$
5.	$2+2=4$
6.	$3+5=8$
7.	$3+4=7$
8.	$4+5=9$
9.	$4+2=6$
10.	$2+3=5$
11.	$1+7=8$
12.	$2+4=6$
13.	$4+2=6$
14.	$5+2=7$
15.	$3+4=7$

* 이 자료는 배달의민족 주아, 나눔폰트를
사용하였습니다.

출판일

2026년 2월 13일

저작권 및 유의사항

- 썸나는수학 홈페이지:
<https://hakjeso.com>
 - 이 저작물은 썸나는수학에 있으며, 출처를 밝힌 후
비상업적 용도로 자유롭게 사용이 가능합니다.
 - 이미지는 gemini를 사용하였습니다.
 - 상업적 용도는 수업이나 과외지도에서 부교재로
활용하는 경우만 허용합니다.
 - 학습지제작소가 새로운 모습으로 찾아뵙니다.
'썸나는교실' 많은 이용 부탁드립니다!
 - 이 저작물을 무단으로 재배포, 수정하거나, 게시물의
비밀번호를 유포하는 행위는 삼가주시길 바랍니다.
- © 썸나는교실, 학습지제작소, 2026, All rights reserved.

o not Distribute this file.