



초등학교 1학년 1학기 3. 덧셈과 뺄셈

## 덧셈식 쓰기

초등학교

1학년 반

이름

1. 모두 몇 송이인지 덧셈식을 써 봅시다.



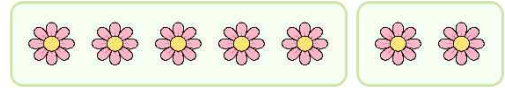
[덧셈식] \_\_\_\_\_

2. 모두 몇 개인지 덧셈식을 써 봅시다.



[덧셈식] \_\_\_\_\_

3. 모두 몇 송이인지 덧셈식을 써 봅시다.



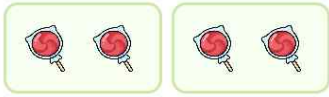
[덧셈식] \_\_\_\_\_

4. 모두 몇 개인지 덧셈식을 써 봅시다.



[덧셈식] \_\_\_\_\_

5. 모두 몇 개인지 덧셈식을 써 봅시다.



[덧셈식] \_\_\_\_\_

6. 모두 몇 마리인지 덧셈식을 써 봅시다.



[덧셈식] \_\_\_\_\_

7. 모두 몇 개인지 덧셈식을 써 봅시다.



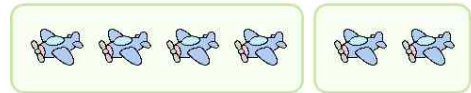
[덧셈식] \_\_\_\_\_

8. 모두 몇 개인지 덧셈식을 써 봅시다.



[덧셈식] \_\_\_\_\_

9. 모두 몇 대인지 덧셈식을 써 봅시다.



[덧셈식] \_\_\_\_\_

10. 모두 몇 송이인지 덧셈식을 써 봅시다.




[덧셈식] \_\_\_\_\_

11. 모두 몇 마리인지 덧셈식을 써 봅시다.




[덧셈식] \_\_\_\_\_

12. 모두 몇 개인지 덧셈식을 써 봅시다.



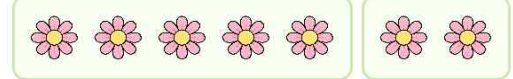
[덧셈식] \_\_\_\_\_

13. 모두 몇 마리인지 덧셈식을 써 봅시다.



[덧셈식] \_\_\_\_\_

14. 모두 몇 송이인지 덧셈식을 써 봅시다.



[덧셈식] \_\_\_\_\_

15. 모두 몇 마리인지 덧셈식을 써 봅시다.



[덧셈식] \_\_\_\_\_

**빠른 정답)**

1.	$2+1=3$
2.	$3+3=6$
3.	$5+2=7$
4.	$4+1=5$
5.	$2+2=4$
6.	$3+5=8$
7.	$3+4=7$
8.	$4+5=9$
9.	$4+2=6$
10.	$2+3=5$
11.	$1+7=8$
12.	$2+4=6$
13.	$4+2=6$
14.	$5+2=7$
15.	$3+4=7$

\* 이 자료는 배달의민족 주아, 나눔폰트를  
사용하였습니다.

**출판일**

2026년 2월 13일

**저작권 및 유의사항**

- 샘나는수학 홈페이지:  
<https://hakjeso.com>
  - 이 저작물은 샘나는수학에 있으며, 출처를 밝힌 후  
비상업적 용도로 자유롭게 사용이 가능합니다.
  - 이미지는 gemini를 사용하였습니다.
  - 상업적 용도는 수업이나 과외지도에서 부교재로  
활용하는 경우만 허용합니다.
  - 학습지제작소가 새로운 모습으로 찾아뵙니다.  
'샘나는교실' 많은 이용 부탁드립니다!
  - 이 저작물을 무단으로 **재배포**, **수정**하거나, 게시물의  
**비밀번호**를 **유포**하는 행위는 삼가주시길 바랍니다.
- © 샘나는교실, 학습지제작소, 2026, All rights reserved.

o not Distribute this file.