



초등학교 1학년 1학기 1. 9까지의 수

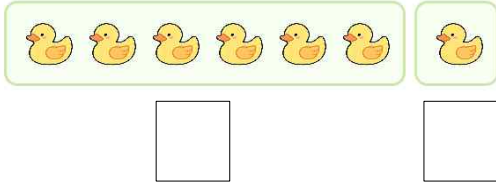
큰 수, 작은 수에 표시하기

초등학교

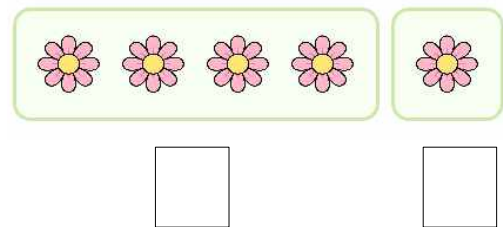
1학년 반

이름

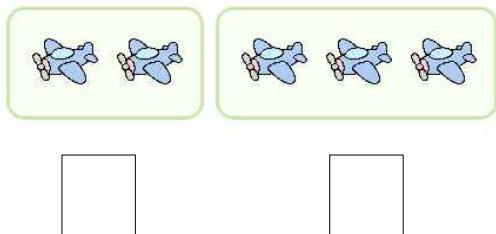
1. 빈칸에 알맞은 수를 쓰고, 큰 수에 ○ 표시를 하세요.



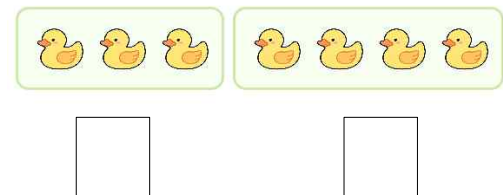
3. 빈칸에 알맞은 수를 쓰고, 큰 수에 ○ 표시를 하세요.



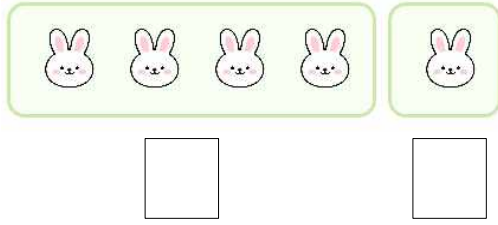
2. 빈칸에 알맞은 수를 쓰고, 큰 수에 ○ 표시를 하세요.



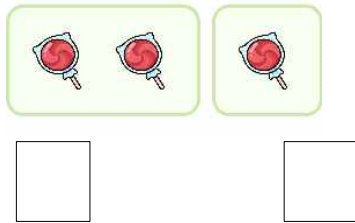
4. 빈칸에 알맞은 수를 쓰고, 큰 수에 ○ 표시를 하세요.



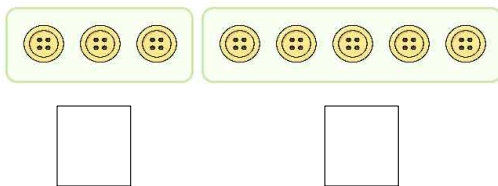
5. 빈칸에 알맞은 수를 쓰고, 작은 수에 △ 표시를 하세요.



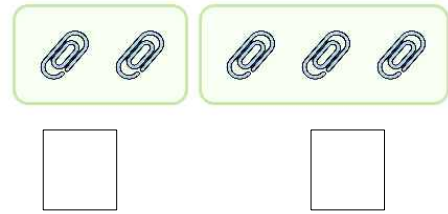
6. 빈칸에 알맞은 수를 쓰고, 작은 수에 △ 표시를 하세요.




7. 빈칸에 알맞은 수를 쓰고, 작은 수에 △ 표시를 하세요.



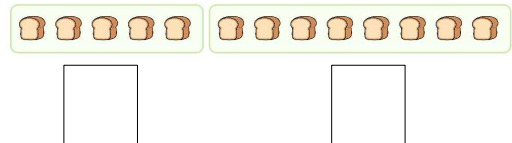
8. 빈칸에 알맞은 수를 쓰고, 큰 수에 ○ 표시를 하세요.




9. 빈칸에 알맞은 수를 쓰고, 작은 수에 △ 표시를 하세요.




10. 빈칸에 알맞은 수를 쓰고, 큰 수에 ○ 표시를 하세요.




11. 빈칸에 알맞은 수를 쓰고, 작은 수에 △ 표시를 하세요.



12. 빈칸에 알맞은 수를 쓰고, 큰 수에 ○ 표시를 하세요.



13. 빈칸에 알맞은 수를 쓰고, 작은 수에 △ 표시를 하세요.



14. 다음 중 가장 큰 수에 ○ 표시를 해 보세요.

3	8	4
---	---	---

15. 다음 중 가장 작은 수에 △ 표시를 해 보세요.

9	7	2
---	---	---

빠른 정답)

정답지 PDF를 참고하세요.

* 이 자료는 배달의민족 주아, 나눔폰트를
사용하였습니다.

출판일

2026년 2월 16일

저작권 및 유의사항

- 샘나는수학 홈페이지:
<https://hakjeso.com>
 - 이 저작물은 샘나는수학에 있으며, 출처를 밝힌 후
비상업적 용도로 자유롭게 사용이 가능합니다.
 - 이미지는 gemini를 사용하였습니다.
 - 상업적 용도는 수업이나 과외지도에서 부교재로
활용하는 경우만 허용합니다.
 - 학습지제작소가 새로운 모습으로 찾아뵙니다.
'샘나는교실' 많은 이용 부탁드립니다!
 - 이 저작물을 무단으로 **재배포**, **수정**하거나, 게시물의
비밀번호를 **유포**하는 행위는 삼가주시길 바랍니다.
- © 샘나는교실, 학습지제작소, 2026, All rights reserved.

o not Distribute this file.