

초등학교


2학년 반

이름

초등학교 2학년 1학기 1. 세 자리 수

## 수 모형을 보고 세 자리 수 쓰기


1. 다음 수 모형이 나타내는 수를 쓰세요.



답

\_\_\_\_\_

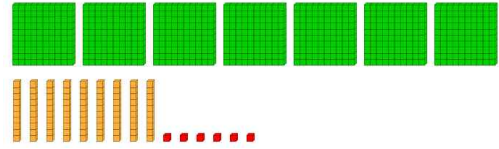
2. 다음 수 모형이 나타내는 수를 쓰세요.



답

\_\_\_\_\_

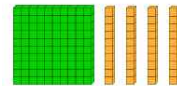
3. 다음 수 모형이 나타내는 수를 쓰세요.



답

\_\_\_\_\_

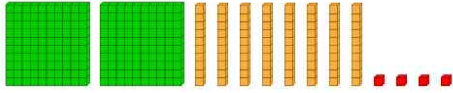
4. 다음 수 모형이 나타내는 수를 쓰세요.



답

\_\_\_\_\_

5. 다음 수 모형이 나타내는 수를 쓰세요.



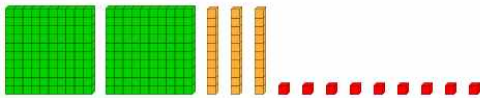
답 \_\_\_\_\_

6. 다음 수 모형이 나타내는 수를 쓰세요.



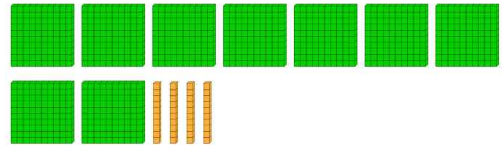
답 \_\_\_\_\_

7. 다음 수 모형이 나타내는 수를 쓰세요.




답 \_\_\_\_\_

8. 다음 수 모형이 나타내는 수를 쓰세요.




답 \_\_\_\_\_

9. 다음 수 모형이 나타내는 수를 쓰세요.




답 \_\_\_\_\_

10. 다음 수 모형이 나타내는 수를 쓰세요.




답 \_\_\_\_\_

11. 다음 수 모형이 나타내는 수를 쓰세요.




답 \_\_\_\_\_

12. 다음 수 모형이 나타내는 수를 쓰세요.



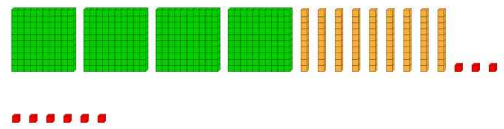
답 \_\_\_\_\_

13. 다음 수 모형이 나타내는 수를 쓰세요.



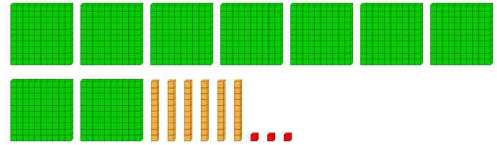
답 \_\_\_\_\_

14. 다음 수 모형이 나타내는 수를 쓰세요.



답 \_\_\_\_\_

15. 다음 수 모형이 나타내는 수를 쓰세요.



답 \_\_\_\_\_

**빠른 정답)**

[1]	328
[2]	104
[3]	796
[4]	140
[5]	284
[6]	708
[7]	239
[8]	940
[9]	537
[10]	764
[11]	588
[12]	112
[13]	196
[14]	499
[15]	963

\* 이 자료는 배달의민족 주아, 서울한강체, 나눔폰트를  
사용하였습니다.

수정일

2025년 2월 17일

**저작권 및 유의사항**

- 썸나는수학 홈페이지:  
<https://hakjeso.com>
  - 학습지제작소 홈페이지:  
<https://calcproject.tistory.com/>
  - 계산학습지의 오류나 건의사항이 있는 경우,  
<https://calcproject.tistory.com/tag>  
로 문의해주세요.
  - 이 저작물은 썸나는교실에 있으며, 출처를 밝힌 후  
비상업적 용도로 자유롭게 사용이 가능합니다.
  - 상업적 용도는 수업이나 과외지도에서 부교재로  
활용하는 경우만 허용합니다.
  - 학습지제작소가 새로운 모습으로 찾아뵙니다.  
'썸나는수학' 많은 이용 부탁드립니다!
  - 이 저작물을 무단으로 **재배포**, **수정**하거나, 게시물의  
**비밀번호를 유포**하는 행위는 삼가주시길 바랍니다.
- © 썸나는 수학, 학습지제작소, 2026, All rights reserved.

Do not Distribute this file.