



초등학교 2학년 1학기 6. 곱셈


초등학교

2학년 반

이름


### 몇의 몇 배를 알아볼까요

1. 다음 빈칸에 알맞은 수를 써넣으세요.




→ 5의 \_\_\_ 배

2. 다음 빈칸에 알맞은 수를 써넣으세요.




→ \_\_\_의 2배

3. 다음 빈칸에 알맞은 수를 써넣으세요.



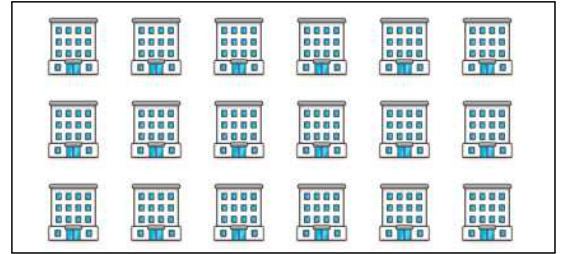
→ 2의 \_\_\_ 배

4. 다음 빈칸에 알맞은 수를 써넣으세요.




→ \_\_\_의 5배

5. 다음 빈칸에 알맞은 수를 써넣으세요.




→ 6의 \_\_\_ 배

6. 다음 빈칸에 알맞은 수를 써넣으세요.




→ \_\_\_의 4배

7. 다음 빈칸에 알맞은 수를 써넣으세요.




→ \_\_\_의 3배

8. 다음 빈칸에 알맞은 수를 써넣으세요.




→ \_\_\_의 2배

9. 다음 빈칸에 알맞은 수를 써넣으세요.




→ 3의 \_\_\_배

10. 다음 빈칸에 알맞은 수를 써넣으세요.




→ 3의 \_\_\_배

11. 다음 빈칸에 알맞은 수를 써넣으세요.



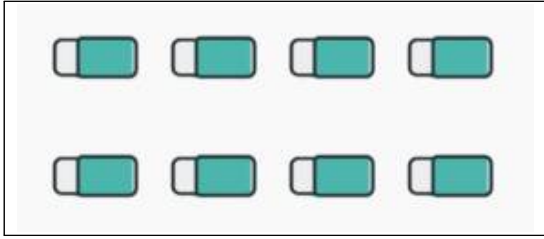
→ 5의 \_\_\_배

12. 다음 빈칸에 알맞은 수를 써넣으세요.




→ \_\_\_의 6배

13. 다음 빈칸에 알맞은 수를 써넣으세요.



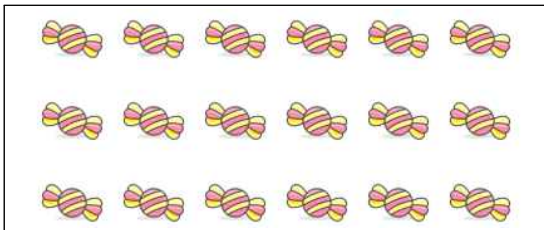
→ \_\_\_의 2배

14. 다음 빈칸에 알맞은 수를 써넣으세요.



→ \_\_\_의 \_\_\_배

15. 다음 빈칸에 알맞은 수를 써넣으세요.



→ \_\_\_의 \_\_\_배

**빠른 정답)**

[1]	3
[2]	3
[3]	2
[4]	5
[5]	3
[6]	6
[7]	5
[8]	4
[9]	4
[10]	4
[11]	4
[12]	5
[13]	4
[14]	4,4
[15]	6,3 (또는 3,6)

\* 이 자료는 배달의민족 주아, 서울한강체, 나눔폰트를  
사용하였습니다.

**출판일**

2026년 3월 28일

**저작권 및 유의사항**

- 썸나는수학 홈페이지:  
<https://hakjeso.com>
  - 학습지제작소 홈페이지:  
<https://calcproject.tistory.com/>
  - 계산학습지의 오류나 건의사항이 있는 경우,  
<https://calcproject.tistory.com/tag>  
로 문의해주세요.
  - 이 저작물은 썸나는교실에 있으며, 출처를 밝힌 후  
비상업적 용도로 자유롭게 사용이 가능합니다.
  - 상업적 용도는 수업이나 과외지도에서 부교재로  
활용하는 경우만 허용합니다.
  - 학습지제작소가 새로운 모습으로 찾아뵙니다.  
'썸나는수학' 많은 이용 부탁드립니다!
  - 이 저작물을 무단으로 **재배포**, **수정**하거나, 게시물  
의 **비밀번호를 유포**하는 행위는 삼가주시길 바랍니다.
- © 썸나는 수학, 학습지제작소, 2026, All rights reserved.

Do not Distribute this file.