	초등학교 1학년 1학기 5. 50까지의 수	초등학교	
	10씩 세어볼까요	1학년	반
		이름	

[1-4] 10개씩 묶어보고, 빈칸에 알맞은 수를 써넣으세요.

1.



→ 10개씩 묶음 ()개는 ()입니다.

2.




→ 10개씩 묶음 ()개는 ()입니다.

3.




→ 10개씩 묶음 ()개는 ()입니다.

4.



→ 10개씩 묶음 ()개는 ()입니다.

5.



(1) 다음 그림에서 사과를 10개씩 이어서 묶어보세요.


(2) 사과는 10개씩 몇 묶음인가요?

() 묶음

(3) 사과는 모두 몇 개인가요?

() 개

6.



(1) 다음 그림에서 아이스크림을 10개씩 이어서 묶어보세요.

(2) 아이스크림은 10개씩 몇 묶음인가요?

() 묶음

(3) 아이스크림은 모두 몇 개인가요?

() 개

7.



(1) 다음 그림에서 선물 상자를 10개씩 이어서 묶어보세요.

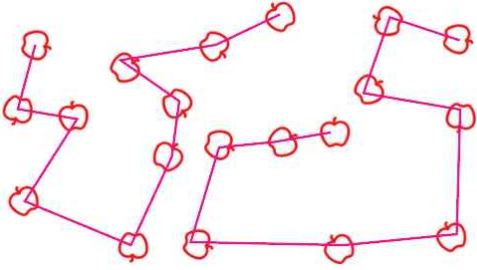
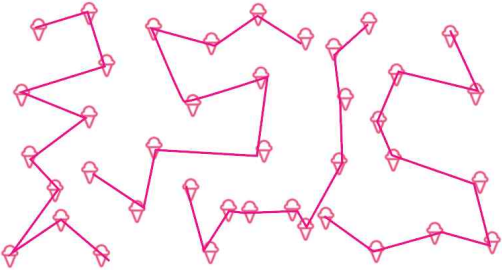
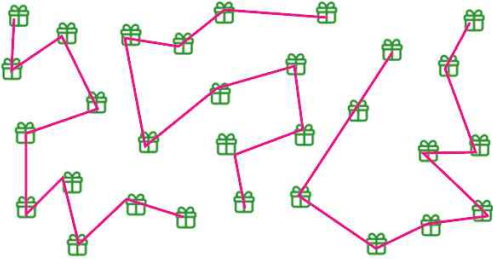
(2) 상자는 10개씩 몇 묶음인가요?

() 묶음

(3) 상자는 모두 몇 개인가요?

() 개

바른 정답)

1.	2, 20
2.	3, 30
3.	4, 40
4.	5, 50
5.	(1) 예)  (2) 2 (3) 20
6.	(1) 예)  (2) 4 (3) 40
7.	(1) 예)  (2) 3 (3) 30

* 이 자료는 배달의민족 주아, 나눔폰트를 사용하였습니다.

* 이 자료는 lucide 오픈소스를 사용하여 만들었습니다.

출판일

2026년 4월 15일

저작권 및 유의사항

- 썸나는수학 홈페이지:
<https://hakjeso.com>
 - 이 저작물은 썸나는수학에 있으며, 출처를 밝힌 후 비상업적 용도로 자유롭게 사용이 가능합니다.
 - 상업적 용도는 수업이나 과외지도에서 부교재로 활용하는 경우만 허용합니다.
 - 학습지제작소가 새로운 모습으로 찾아뵙니다. '썸나는교실' 많은 이용 부탁드립니다!
 - 이 저작물을 무단으로 재배포, 수정하거나, 게시물의 비밀번호를 유출하는 행위는 삼가주시길 바랍니다.
- © 썸나는교실, 학습지제작소, 2026, All rights reserved.

Do not Distribute this file.