



초등학교 2학년 1학기 4. 길이 재기

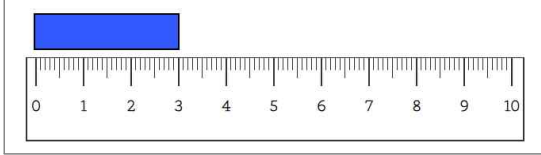
초등학교

2학년 반

### 자를 사용하여 길이 재기

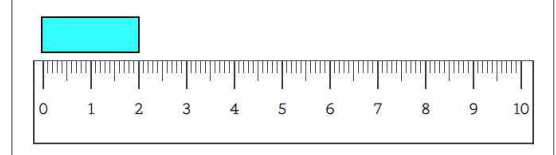
이름

1. 길이를 써보세요.



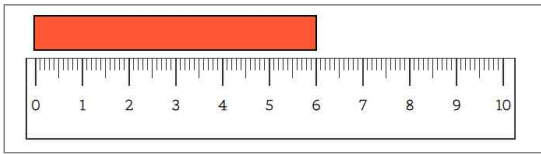
( )cm

4. 길이를 써보세요.



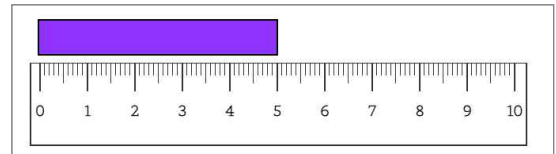
( )cm

2. 길이를 써보세요.



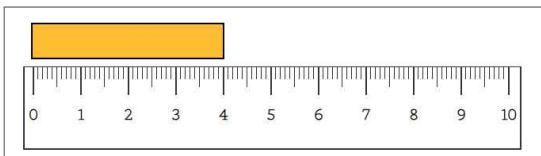
( )cm

5. 길이를 써보세요.



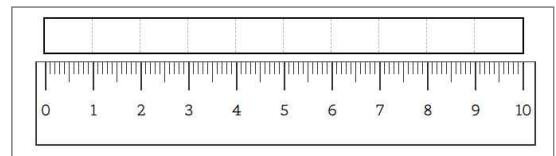
( )cm

3. 길이를 써보세요.

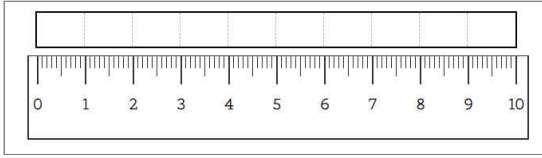


( )cm

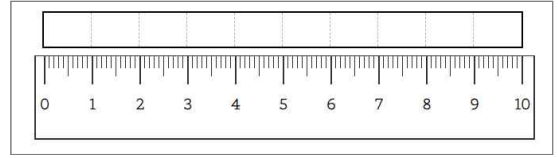
6. 1cm만큼 칸을 채워보세요.



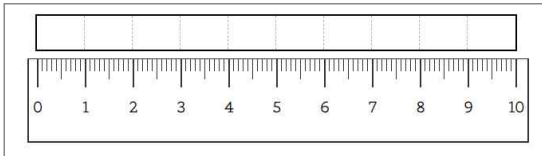
7. 8cm만큼 칸을 채워보세요.



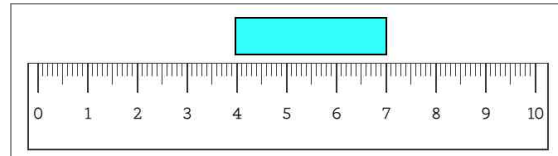
10. 6cm만큼 칸을 채워보세요.



8. 7cm만큼 칸을 채워보세요.

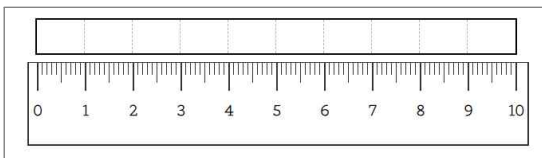


11. 빈칸에 알맞은 수를 쓰세요.

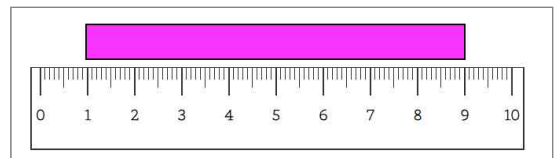


→ 막대의 길이는 1cm이 ( )칸이므로 ( )cm입니다.

9. 4cm만큼 칸을 채워보세요.

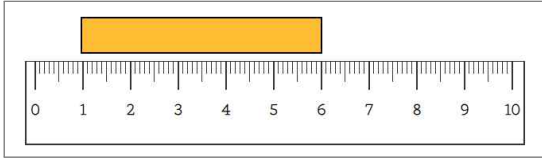


12. 빈칸에 알맞은 수를 쓰세요.



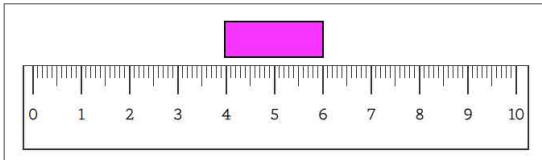
→ 막대의 길이는 1cm이 ( )칸이므로 ( )cm입니다.

13. 빈칸에 알맞은 수를 쓰세요.



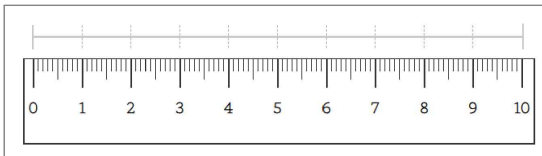
→ 막대의 길이는 1cm이 ( )칸이므로  
( )cm입니다.

14. 빈칸에 알맞은 수를 쓰세요.

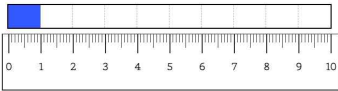
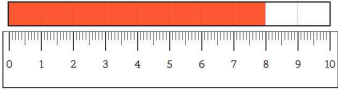
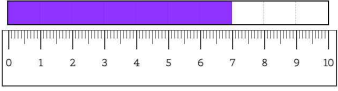
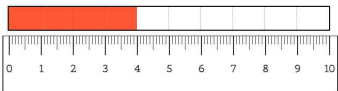
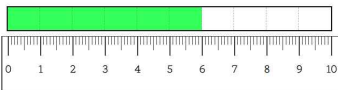
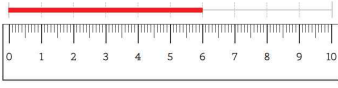


→ 막대의 길이는 1cm이 ( )칸이므로  
( )cm입니다.

15. 6cm만큼 선을 따라 그어보세요.



**빠른 정답)**

[1]	3cm
[2]	6cm
[3]	4cm
[4]	2cm
[5]	5cm
[6]	
[7]	
[8]	
[9]	
[10]	
[11]	3,3
[12]	8,8
[13]	5,5
[14]	2,2
[15]	

\* 이 자료는 나눔폰트, Hamlet체를 사용하였습니다.

**출판일**

2026년 4월 2일

**저작권 및 유의사항**

- 썸나는수학 홈페이지:  
<https://hakjeso.com>
  - 학습지제작소 홈페이지:  
<https://calcproject.tistory.com/>
  - 계산학습지의 오류나 건의사항이 있는 경우,  
<https://calcproject.tistory.com/tag>  
로 문의해주세요.
  - 이 저작물은 썸나는교실에 있으며, 출처를 밝힌 후 비상업적 용도로 자유롭게 사용이 가능합니다.
  - 상업적 용도는 수업이나 과외지도에서 부교재로 활용하는 경우만 허용합니다.
  - 학습지제작소가 새로운 모습으로 찾아뵙니다. '썸나는수학' 많은 이용 부탁드립니다!
  - 이 저작물을 무단으로 **재배포**, **수정**하거나, 게시물**의 비밀번호를 유포**하는 행위는 삼가주시길 바랍니다.
- © 썸나는 수학, 학습지제작소, 2026, All rights reserved.

Do not Distribute this file.