

초등학교

2학년 반

이름

초등학교 2학년 1학기 6. 곱셈

## 곱 비교하기

1. 다음 계산 결과를 비교하여  $>$ ,  $=$ ,  $<$  중 알맞은 것을 써넣으세요.

2 곱하기 3



3의 4배

4. 다음 계산 결과를 비교하여  $>$ ,  $=$ ,  $<$  중 알맞은 것을 써넣으세요.

4 곱하기 4

 $8 \times 2$ 

2. 다음 계산 결과를 비교하여  $>$ ,  $=$ ,  $<$  중 알맞은 것을 써넣으세요.

6 곱하기 2



2의 6배

5. 다음 계산 결과를 비교하여  $>$ ,  $=$ ,  $<$  중 알맞은 것을 써넣으세요.

7의 3배



2 곱하기 8

3. 다음 계산 결과를 비교하여  $>$ ,  $=$ ,  $<$  중 알맞은 것을 써넣으세요.

5의 4배

 $3+3+3+3+3$ 



6. 다음 계산 결과를 비교하여  $>$ ,  $=$ ,  $<$  중 알맞은 것을 써넣으세요.

9의 4배



6 곱하기 7

**[7-8]** 영우는 지우개를 5개씩 3묶음을 가지고 있고, 지아는 지우개를 8개씩 2묶음을 가지고 있습니다.

영우	지아
	

7. 영우와 지아가 가지고 있는 지우개 수를 곱셈식으로 나타내어보세요.

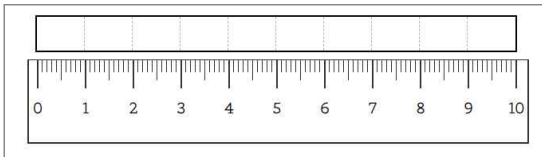
- 영우:  $5 \times \square = \square$

- 지아:  $\square \times \square = \square$

8. 영우와 지아 중 지우개를 더 많이 가지고 있는 사람은 누구입니까?

(                    )

7cm만큼 칸을 채워보세요.



**9.** ㉠~㉣ 중 가장 큰 것을 고르세요.

- ㉠  $2 + 2 + 2 + 2$
- ㉡ 2의 5배
- ㉢ 3 곱하기 2

(                    )

**10.** ㉠~㉣ 중 가장 큰 것을 고르세요.

- ㉠ 3의 6배
- ㉡ 5 곱하기 4
- ㉢  $4 + 4 + 4$

(                    )

**빠른 정답)**

[1]	(1) 2곱하기 3은 $2 \times 3 = 6$ 입니다. (2) 3의 4배는 $3 \times 4 = 12$ 입니다. 따라서 오른쪽이 더 큼니다. 답: <
[2]	(1) 6곱하기 2는 $6 \times 2 = 12$ 입니다. (2) 2의 6배는 $2 \times 6 = 12$ 입니다. 따라서 서로 같습니다. 답: =
[3]	(1) 5의 4배는 $5 \times 4 = 20$ 입니다. (2) $3 + 3 + 3 + 3 + 3$ 은 3을 다섯 번 더한 값이므로 $3 \times 5 = 15$ 입니다. 따라서 왼쪽이 더 큼니다. 답: >
[4]	(1) 4 곱하기 4는 $4 \times 4 = 16$ 입니다. (2) $8 \times 2 = 16$ 입니다. 따라서 서로 같습니다. 답: =
[5]	(1) 7의 3배는 $7 \times 3 = 21$ 입니다. (2) 2곱하기 8은 $2 \times 8 = 16$ 입니다. 따라서 왼쪽이 더 큼니다. 답: >
[6]	(1) 9의 4배는 $9 \times 4 = 36$ 입니다. (2) 6 곱하기 7은 $6 \times 7 = 42$ 입니다. 따라서 오른쪽이 더 큼니다. 답: <
[7~8]	7. 영우가 가지고 있는 지우개는 5개씩 3 묶음이므로 $5 \times \boxed{3} = \boxed{15}$ 가 됩니다. 지아가 가지고 있는 지우개는 6개씩 2묶음이므로 $\boxed{6} \times \boxed{2} = \boxed{12}$ 입니다.  8. 영우가 지우개를 15개, 지아가 지우개를 12개 가지고 있으므로 영우가 지우개를 더 많이 가지고 있습니다.
[9]	㉠을 계산하면 $2 \times 4 = 8$ ㉡을 계산하면 $2 \times 5 = 10$ ㉢을 계산하면 $3 \times 2 = 6$ 입니다. 따라서 가장 큰 것을 고르면 ㉡입니다. 답: ㉡

[10]	㉠을 계산하면 $3 \times 6 = 18$ ㉡을 계산하면 $5 \times 4 = 20$ ㉢을 계산하면 $4 \times 3 = 12$ 따라서 가장 큰 것을 고르면 ㉡입니다. 답: ㉡
------	----------------------------------------------------------------------------------------------------------------------

\* 이 자료는 나눔폰트, Hamlet체를 사용하였습니다.

**출판일**

2026년 5월 16일

**저작권 및 유의사항**

- 샘나는수학 홈페이지: <https://hakjeso.com>
  - 학습지제작소 홈페이지: <https://calcproject.tistory.com/>
  - 계산학습지의 오류나 건의사항이 있는 경우, <https://calcproject.tistory.com/tag>로 문의해주세요.
  - 이 저작물은 샘나는교실에 있으며, 출처를 밝힌 후 비상업적 용도로 자유롭게 사용이 가능합니다.
  - 상업적 용도는 수업이나 과외지도에서 부교재로 활용하는 경우만 허용합니다.
  - 학습지제작소가 새로운 모습으로 찾아뵙니다. '샘나는수학' 많은 이용 부탁드립니다!
  - 이 저작물을 무단으로 재배포, 수정하거나, 게시물의 비밀번호를 유포하는 행위는 삼가주시길 바랍니다.  
© 샘나는 수학, 학습지제작소, 2026, All rights reserved.
- Do not Distribute this file.