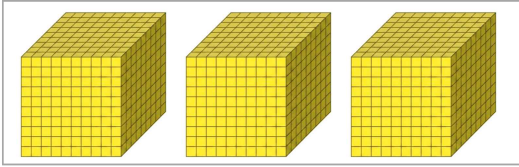


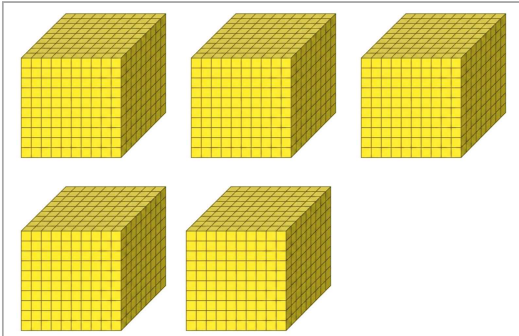
	초등학교 2학년 2학기 1. 네 자리 수	초등학교	
	몇천을 알아볼까요	2학년	반
		이름	

1. ()안에 알맞은 수를 써넣으세요.



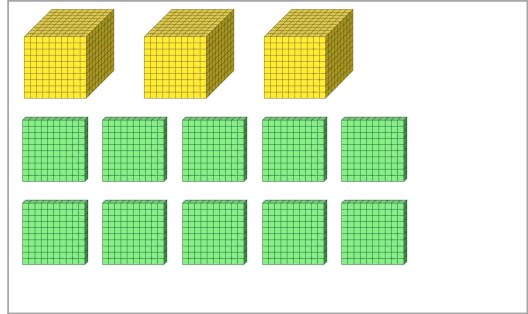
()

2. ()안에 알맞은 수를 써넣으세요.



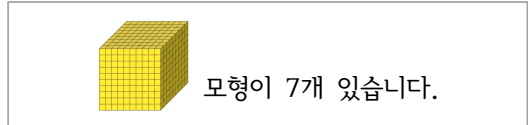
()

3. ()안에 알맞은 수를 써넣으세요.



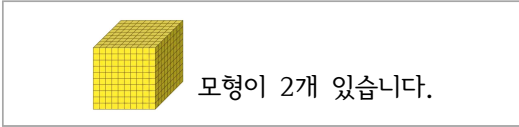
()

4. ()안에 알맞은 수를 써넣으세요.



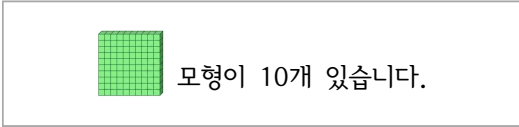
()

5. ()안에 알맞은 수를 써넣으세요.



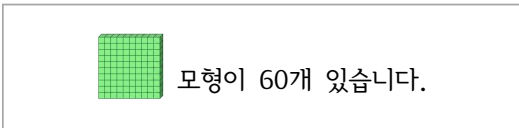
()

6. ()안에 알맞은 수를 써넣으세요.



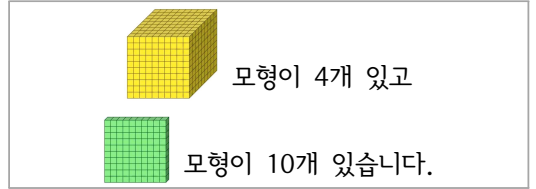
()

7. ()안에 알맞은 수를 써넣으세요.



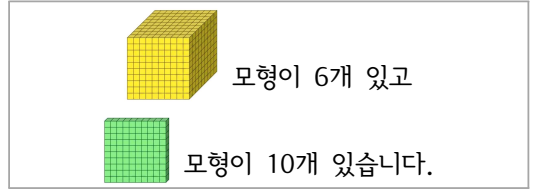
()

8. ()안에 알맞은 수를 써넣으세요.



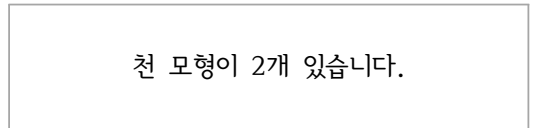
()

9. ()안에 알맞은 수를 써넣으세요.



()

10. ()안에 알맞은 수를 써넣으세요.



()

11. ()안에 알맞은 수를 써넣으세요.

천 모형이 8개 있습니다.

()

12. ()안에 알맞은 수를 써넣으세요.

천 모형이 4개 있고 백 모형이 10개
있습니다.

()

13. 3000만큼 색칠해보세요.

1000	1000	1000	1000	1000
1000	1000	1000	1000	1000

14. 4000만큼 색칠해보세요.

1000	1000	1000	1000	1000
1000	1000	1000	1000	1000

15. 9000만큼 색칠해보세요.

1000	1000	1000	1000	1000
1000	1000	1000	1000	1000

빠른 정답)

1.	3000
2.	5000
3.	4000
4.	7000
5.	2000
6.	1000
7.	6000
8.	5000
9.	7000
10.	2000
11.	8000
12.	5000
13.	1000 1000 1000 1000 1000
	1000 1000 1000 1000 1000
14.	1000 1000 1000 1000 1000
	1000 1000 1000 1000 1000
15.	1000 1000 1000 1000 1000
	1000 1000 1000 1000 1000

* 이 자료는 배달의민족 주아, 나눔폰트를 사용하였습니다.

출판일

2026년 5월 19일

저작권 및 유의사항

- 썸나는수학 홈페이지: <https://hakjeso.com>
 - 학습지제작소 홈페이지: <https://calcproject.tistory.com/>
 - 계산학습지의 오류나 건의사항이 있는 경우, <https://calcproject.tistory.com/tag>로 문의해주세요.
 - 이 저작물은 썸나는수학에 있으며, 출처를 밝힌 후 비상업적 용도로 자유롭게 사용이 가능합니다.
 - 상업적 용도는 수업이나 과외지도에서 부교재로 활용하는 경우만 허용합니다.
 - 학습지제작소가 새로운 모습으로 찾아뵙니다. '썸나는교실' 많은 이용 부탁드립니다!
 - 이 저작물을 무단으로 **재배포**, **수정**하거나, 게시물의 **비밀번호를 유포**하는 행위는 삼가주시길 바랍니다.
- © 썸나는수학, 학습지제작소, 2025, All rights reserved.

Do not Distribute this file.